

SEŠTEVANJE IN  
ODŠTEVANJE

NASPROTNI OPERACIJI



KOLIKO JE VSEH ZVEZDIC SKUPAJ?

$$3 + 2 = 5$$

SEDAJ PA ODSTRANIM ZELENIM ZVEZDICAM.



KOLIKO ZVEZDIC MI OSTANE? KAKŠNE BARVE SO?

$$5 - 2 = 3$$

$$3 + 2 = 5$$

$$5 - 2 = 3$$

PRIMERJAJ RAČUNA.

KAJ IMATA SKUPNEGA?

V ČEM SE RAZLIKUJETA?

OPAZUJ IN POVEJ.



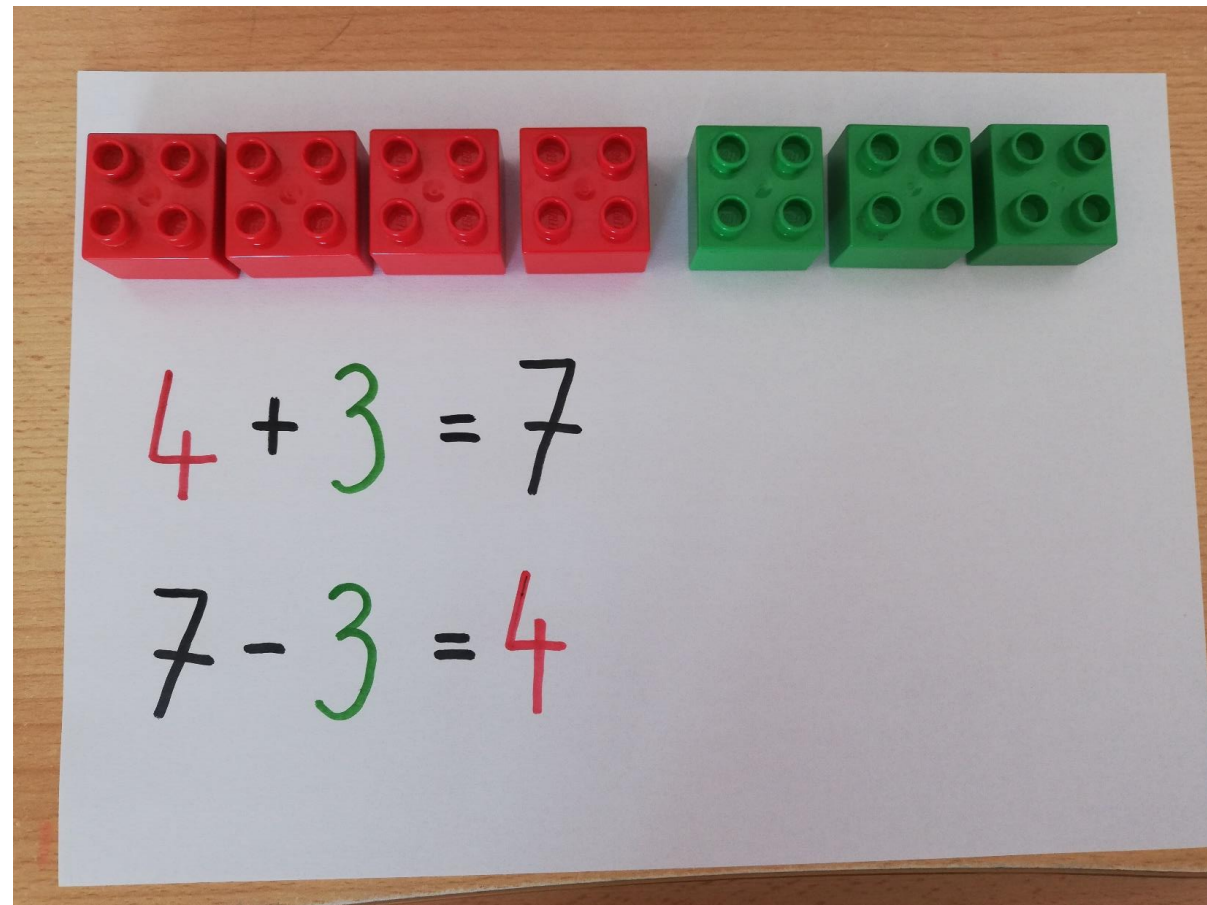
$$7 - 3 = 4$$



$$4 + 3 = 7$$


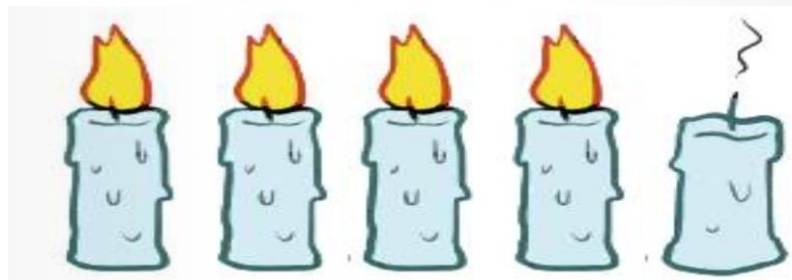

SEDAJ VZEMI LIST PAPIRJA, BARVICE IN NEKAJ LEGO KOCK (LAHKO SO TUDI DRUGE IGRAČE). POSKUSI SAM POSTAVITI NALOGO IN SPODAJ ZAPISATI RAČUNA.

MOJ PRIMER:





V ZVEZEK NAPIŠI NASLOV RAČUNANJE.  
OGLEJ SI SLIKE IN K VSAKI ZAPIŠI DVA RAČUNA.



RAČUNANJE

1.  $7 - \square = \square$        $4 + \square = \square$

2.

3.

4.

OPAZUJ IN POVEJ.



$$6 + 4 = 10,$$

KER JE



$$10 - 4 = 6$$



V ZVEZEK PREPIŠI SPODNJE RAČUNE IN JIH REŠI TAKO,  
KOT JE PRVI.

$$6 - 4 = \square, \text{ KER JE } \square + 4 = 6$$

$$9 - 2 = \square, \text{ KER JE}$$

$$5 + 3 = \square$$

$$8 + 0 = \square$$