

# OCENJEVANJE ZNANJA

ŠTEVILA DO 20

IME:

## 1. ZAPIŠI ŠTEVILA PO NAREKU.

--	--	--	--	--	--	--	--	--	--

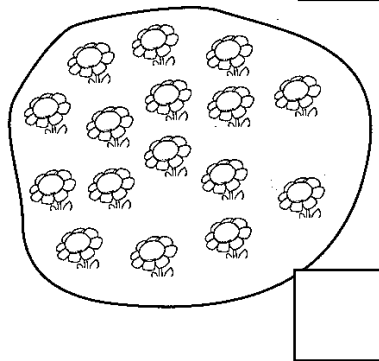
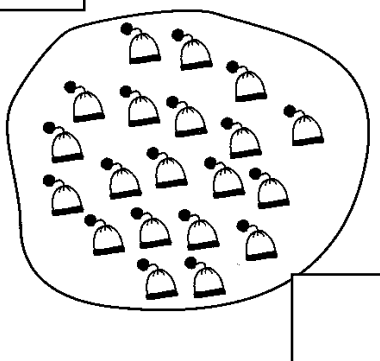
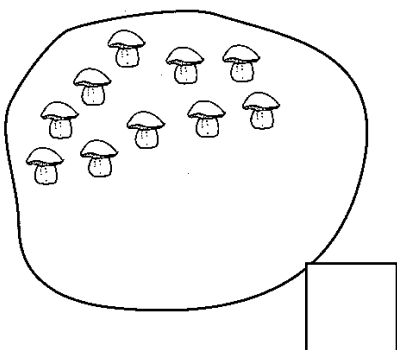
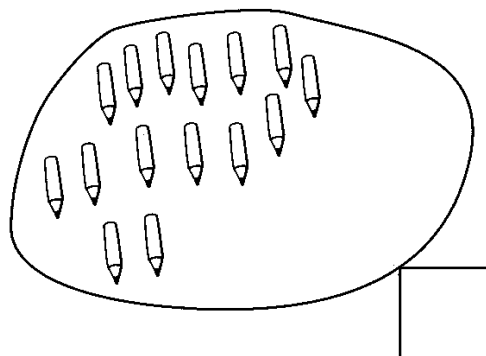
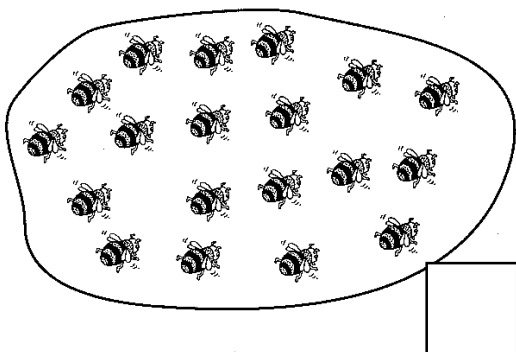
## 2. NAPIŠI MANJKAJOČA ŠTEVILA.

8	9	10						16	
---	---	----	--	--	--	--	--	----	--

19	18	17					12		
----	----	----	--	--	--	--	----	--	--

2	4	6						18	
---	---	---	--	--	--	--	--	----	--

## 3. PREŠTEJ PREDMETE. V KVADRATEK NAPIŠI ŠTEVILO.



4. NARIŠI TOLIKO KRIŽCEV KOT KAŽE ŠTEVILO. (na spletu črk x)

17	
11	
19	

5. VSTAVI ZNAK  $>$ ,  $<$ ,  $=$ .

15		19
20		3
18		16
5		11

20		10
17		18
17		17
14		4

6. DOPOLNI.

PREDHODNIK	ŠTEVILO	NASLEDNIK
	15	
	19	
	10	
	17	
17		
		15

7. UREDI ŠTEVILA PO VELIKOSTI:

- OD NAJMANJŠEGA DO NAJVEČJEGA. 

1, 7, 20, 11, 15

--	--	--	--	--

- OD NAJVEČJEGA DO NAJMANJŠEGA. 

19, 3, 17, 11, 5

--	--	--	--	--